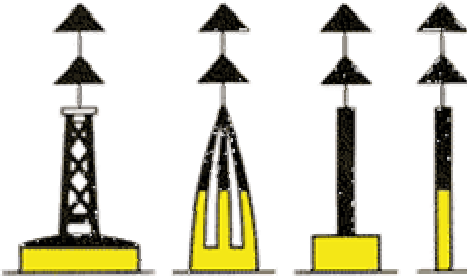
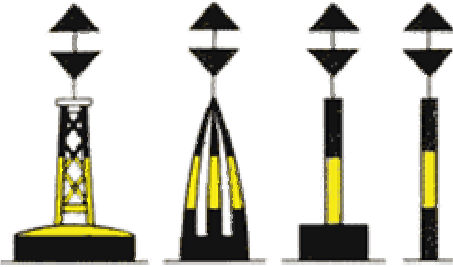



Bezeichnung der Gefahrenstellen		
Frage	Frage	Antwort
189 (Bg.: 9)	<p>Sie sehen eines der folgenden Schifffahrtszeichen:</p>  <p>1. Was bezeichnet dieses Schifffahrtszeichen? 2. Wie verhalten Sie sich beim Passieren?</p>	<p>1. allg. Gefahrenstelle 2. nördl. passieren</p>
190 (Bg.: 11,19)	<p>Sie sehen eines der folgenden Schifffahrtszeichen:</p>  <p>1. Was bezeichnet dieses Schifffahrtszeichen? 2. Wie verhalten Sie sich beim Passieren?</p>	<p>1. allg. Gefahrenstelle 2. östl. passieren</p>

191
(Bg.: 6,14)

Sie sehen eines der folgenden Schifffahrtszeichen:




1. Was bezeichnet dieses Schifffahrtszeichen?
2. Wie verhalten Sie sich beim Passieren?

1. allg. Gefahrenstelle
2. südl. passieren

192
(Bg.: 3,5)

Sie sehen eines der folgenden Schifffahrtszeichen:



1. Was bezeichnet dieses Schifffahrtszeichen?
2. Wie verhalten Sie sich beim Passieren?

1. allg. Gefahrenstelle
2. westl. passieren

193
(Bg.: 13,16)

Sie sehen das weiße Feuer einer Leuchttonne mit folgender Kennung:



oder



1. Was bezeichnet dieses Kennung?
2. Wie verhalten Sie sich beim Passieren?

1. allg. Gefahrenstelle
2. nördl. passieren

194
(Bg.: 15,17,20)

Sie sehen das weiße Feuer einer Leuchttonne mit folgender Kennung:



oder



1. Was bezeichnet dieses Kennung?
2. Wie verhalten Sie sich beim Passieren?

1. allg. Gefahrenstelle
2. östl. passieren

195
(Bg.: 7)

Sie sehen das weiße Feuer einer Leuchttonne mit folgender Kennung:



oder



1. Was bezeichnet dieses Kennung?
2. Wie verhalten Sie sich beim Passieren?

1. allg. Gefahrenstelle
2. südl. passieren

196
(Bg.: 2,10)

Sie sehen das weiße Feuer einer Leuchttonne mit folgender Kennung:



oder




1. Was bezeichnet dieses Kennung?
2. Wie verhalten Sie sich beim Passieren?

1. allg. Gefahrenstelle
2. westl. passieren

197
(Bg.: 1,12)

Sie sehen eines der folgenden Schifffahrtszeichen:



1. Was bedeutet dieses Schifffahrtszeichen?
2. Wie verhalten Sie sich beim passieren?

1. Einzelfahrenstelle
2. an allen Seiten mit ausr. Abstand passieren

198
(Bg.: 8,18)


Sie sehen das weiße Feuer einer Leuchttonne mit der Kennung Fl.(2):

1. Was bezeichnet dieses Feuer?
2. Wie verhalten Sie sich beim passieren?

1. Einzelfahrenstelle
2. an allen Seiten mit ausr. Abstand passieren

199
(Bg.: 4)

Sie sehen folgende doppelt ausgelegte Schifffahrtszeichen:



1. Was bezeichnen diese Schifffahrtszeichen?
2. Wie verhalten Sie sich beim passieren?

1. neue allg. Gefahrenstelle
2. südl. passieren