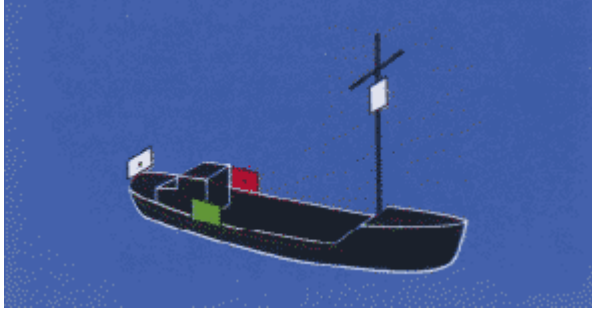

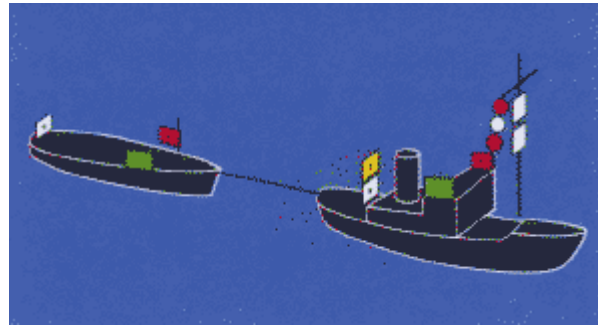


Kollisionsverhütungsregeln		
Frage	Frage	Antwort
30 (Bg.: 2,19)	<p>Sie sehen folgendes Fahrzeug:</p>  <p>Was ist das für ein Fahrzeug?</p>	MFZ u. 50m m.F.d.W.
31 (Bg.: 4,17)	<p>Sie sehen folgendes Fahrzeug:</p>  <p>Welches Fahrzeug muss diese Lichter führen?</p>	MFZ ü. 50m m.F.d.W.

32
(Bg.:
6,15)

Sie sehen folgenden Schleppverband:

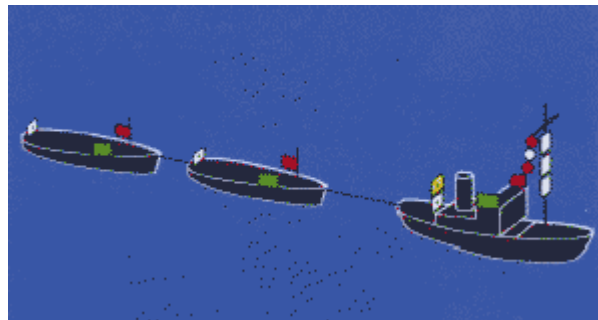


1. Was ist das für ein Schleppverband?
2. Was bedeutet es, wenn das schleppende Fahrzeug zusätzlich drei Rundumlichter senkrecht übereinander - das obere und untere rot, das mittlere weiß - führt?

1. Schleppverband unter 200m
2. man.-beh.

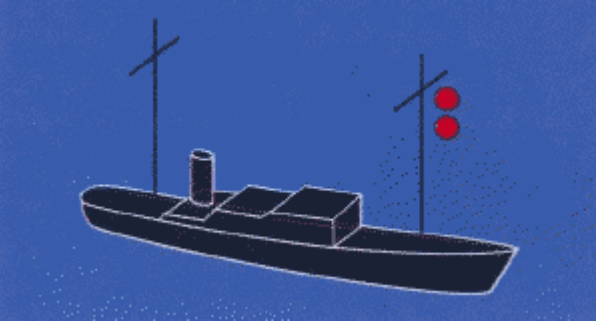

33
(Bg.:
8,13)

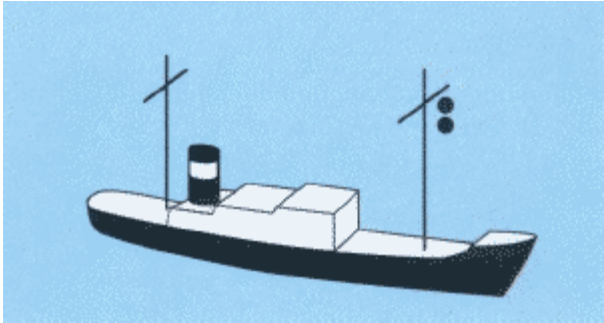
Sie sehen folgenden Schleppverband:



1. Was ist das für ein Schleppverband?
2. Was bedeutet es, wenn das schleppende Fahrzeug zusätzlich drei Rundumlichter senkrecht übereinander - das obere und untere rot, das mittlere weiß - führt?


1. Schleppverband ü. 200m
2. man.-beh.

<p>34 (Bg.: 10,11)</p>	<p>Welche Lichter führen geschleppte Fahrzeuge?</p>	<p>SL + HL</p>
<p>35 (Bg.: 9,12)</p>	<p>Was bedeutet es, wenn jedes Fahrzeug eines Schleppverbandes einen schwarzen Rhombus führt?</p>	<p>Schleppverband ü. 200m</p>
<p>36 (Bg.: 7,14)</p>	<p>Sie sehen folgendes Fahrzeug:</p>  <p>Was ist das für ein Fahrzeug?</p>	<p>man-unf. o.F.d.W.</p>
<p>37 (Bg.: 5,16)</p>	<p>Sie sehen folgendes Fahrzeug:</p>  <p>Was ist das für ein Fahrzeug?</p>	<p>Man.-unf. m.F.d.W</p>

<p>38 (Bg.: 3,18)</p>	<p>Sie sehen folgendes Fahrzeug:</p>  <p>Was ist das für ein Fahrzeug?</p>	<p>Man.-unf.</p>
<p>39 (Bg.: 1,20)</p>	<p>Welche Signalkörper haben Sie zu führen, wenn Ihr Fahrzeug von 12 und mehr Meter Länge manövrierunfähig ist?</p>	<p>2 schwarze Bälle</p>
<p>40 (Bg.: 2,19)</p>	<p>Welche Lichter haben Sie zu führen, wenn Ihr Fahrzeug von 12 und mehr Meter Länge manövrierunfähig ist, und zwar</p> <ol style="list-style-type: none"> 1. in Fahrt (ohne Fahrt durchs Wasser), 2. mit Fahrt durchs Wasser? 	<ol style="list-style-type: none"> 1. 2 rote RL 2. plus SL + HL <p>KEIN TOPPLICHT !!</p>

41
(Bg.: 4,17)

Sie sehen folgendes Fahrzeug:

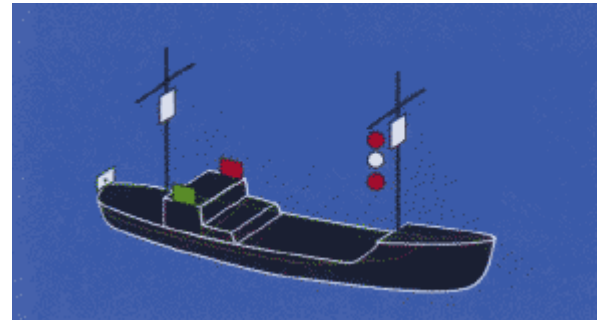


Was ist das für ein Fahrzeug?

Man.-beh. o.F.d.W.

42
(Bg.: 5,15)

Sie sehen folgendes Fahrzeug:




Welches Fahrzeug muss diese Lichter führen?

Man.-beh. m.F.d.W. ü.50m

43
(Bg.: 8,13)

Sie sehen folgendes Fahrzeug:

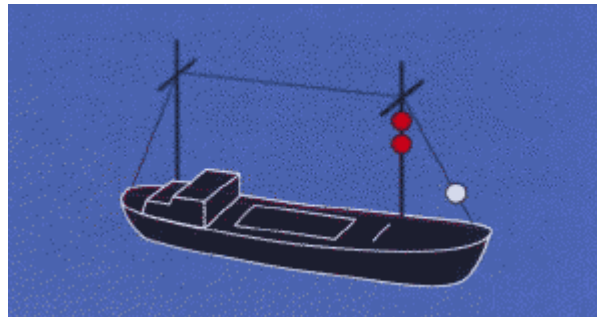


Was ist das für ein Fahrzeug?

Man.-beh.

44
(Bg.: 7,10,11)

Sie sehen folgendes Fahrzeug:




Was ist das für ein Fahrzeug?

Grundsitzer u.50m

45
(Bg.: 9,12)

Sie sehen folgendes Fahrzeug:

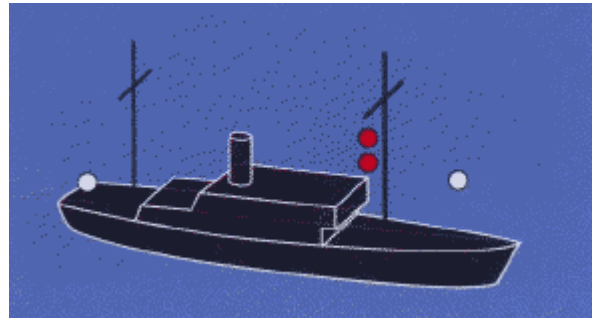


Was ist das für ein Fahrzeug?

Ein Grundsitzer.

46
(Bg.: 14)

Sie sehen folgendes Fahrzeug:

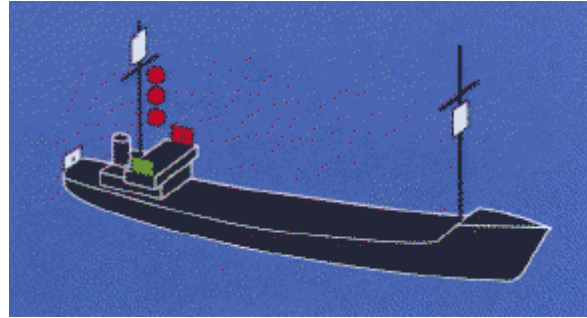


Welches Fahrzeug muss diese Lichter führen?

Grundsitzer ü. 50m

47
(Bg.: 6,16)

Sie sehen folgendes Fahrzeug:




Welches Fahrzeug muss diese Lichter führen?

Tiefg.-beh. ü.50m m.F.d.W.

48
(Bg.: 3,18)

Sie sehen folgendes Fahrzeug:

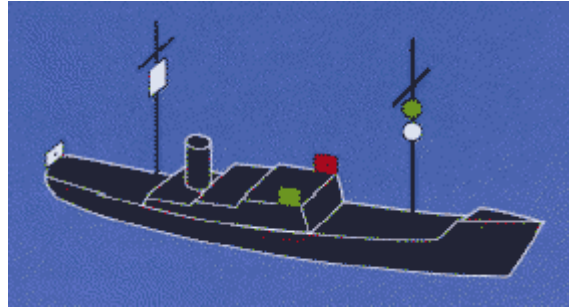


Was ist das für ein Fahrzeug?

Tiefg.-beh.

49
(Bg.: 1,20)

Sie sehen folgendes Fahrzeug:

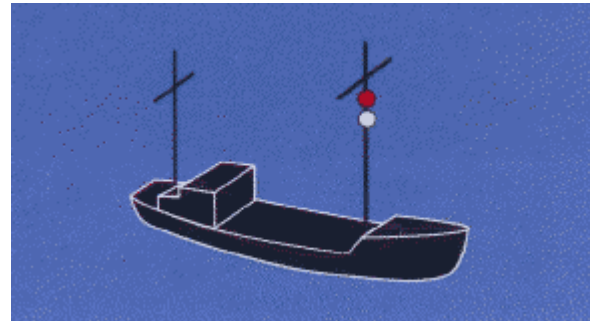


Welches Fahrzeug muss diese Lichter führen?

Trawler ü.50m m.F.d.W.


50
(Bg.: 6,15)

Sie sehen folgendes Fahrzeug:



Was ist das für ein Fahrzeug?

Nichttrawler o.F.d.W.

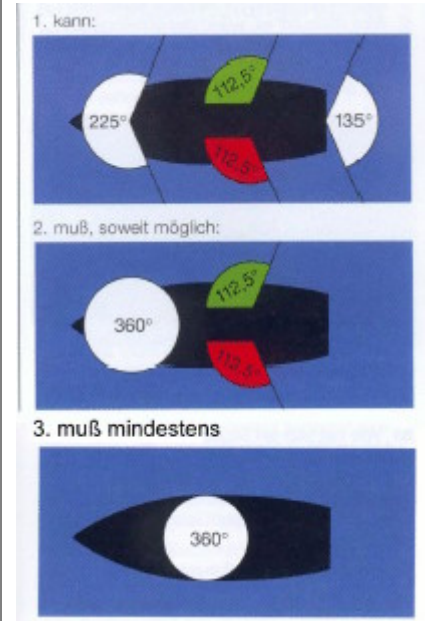
<p>51 (Bg.: 5,16)</p>	<p>Sie sehen folgendes Fahrzeug:</p>  <p>Was ist das für ein Fahrzeug?</p>	<p>Fischendes Fahrzeug</p>
<p>52 (Bg.: 8,18)</p>	<p>Was verstehen Sie unter dem Begriff "fischendes Fahrzeug"?</p>	<p>Ein FZ, das seine Fanggeräte ausgebracht hat und dadurch nicht vorschriftsmäßig ausweichen kann</p>
<p>53 (Bg.: 1,11)</p>	<p>Welche Fahrzeuge führen nur Seitenlichter rot und grün und ein weißes Hecklicht?</p>	<ol style="list-style-type: none"> 1. Segler 2. Ruderboote 3. geschleppte FZ
<p>54 (Bg.: 7,20)</p>	<p>Was für eine Laterne kann ein Segelfahrzeug von weniger als 20 Meter Länge anstelle der Seitenlichter und des Hecklichts führen?</p>	<p>3 FLT</p>
<p>55 (Bg.: 2,13)</p>	<p>Welche Lichter darf ein Fahrzeug unter Ruder führen oder zeigen?</p>	<ol style="list-style-type: none"> 1. SL + HL 2. mind. 1 RL weiß
<p>56 (Bg.: 9,17)</p>	<p>Welche Lichter muss ein Fahrzeug unter Segel, das gleichzeitig mit Maschinenkraft fährt, führen?</p>	<p>Die eines MFZ</p>

57
(Bg.:
3,12)

Welche Lichter kann bzw. muss ein Maschinenfahrzeug in Fahrt von weniger als 7 Meter Lange, dessen Hochstgeschwindigkeit 7 Knoten nicht ubersteigt, fuhren?

Tragen Sie die Lichter unter Angabe der Farben und Sichtwinkel ein, geben Sie an, in welcher Mindesthohe das Topp- oder Rundumlicht uber den Seitenlaternen gefuhrt werden muss und geben Sie ferner an, welche Erleichterung anstelle der beiden Seitenlaternen zulassig ist.

1. kann ...
2. muss, soweit moglich ...
3. muss mindestens...



1. SL + HL + TL
2. SL + RL
3. RL

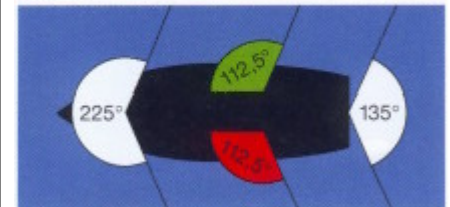
1m, 2 FLT

58
(Bg.:
10,19)

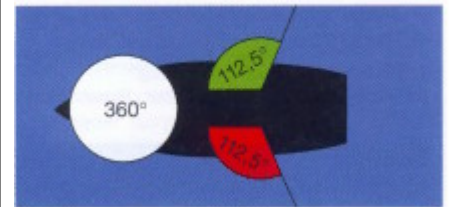
Welche Lichter kann bzw. muss ein Maschinenfahrzeug in Fahrt von weniger als 12 Meter Lange fuhren?

Tragen Sie die Lichter unter Angabe der Farben und Sichtwinkel ein, geben Sie an, in welcher Mindesthohe das Topp- oder Rundumlicht uber den Seitenlaternen gefuhrt werden muss und geben Sie ferner an, welche Erleichterung anstelle der beiden Seitenlaternen zulassig ist.

1. kann:

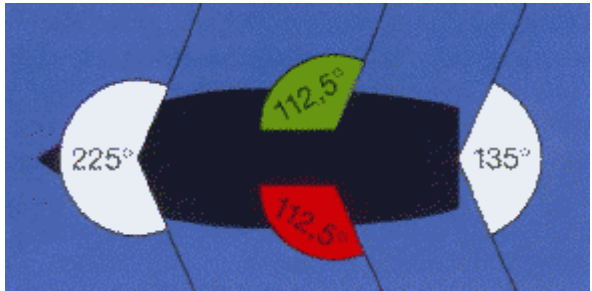
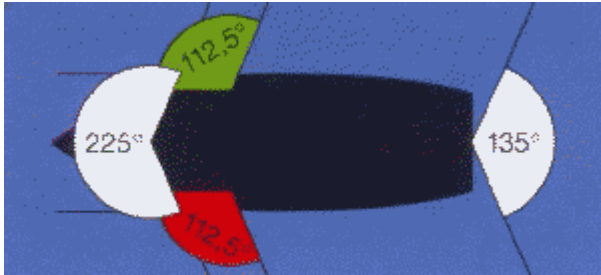



2. mu mindestens:





1. SL + HL + TL
2. SL + RL

1m, 2 FLT

<p>59 (Bg.: 4,14)</p>	<p>Welche Lichter muss ein Maschinenfahrzeug in Fahrt von 12 und mehr, jedoch weniger als 20 Meter Länge führen?</p> <p>Tragen Sie die Lichter unter Angabe der Farben und Sichtwinkel ein, geben Sie an, in welcher Mindesthöhe das Topplight über dem Schandeckel geführt werden muss und geben Sie ferner an, welche Erleichterung anstelle der beiden Seitenlaternen zulässig ist.</p>	 <p>1. SL + HL + TL</p> <p>2,5m, 2 FLT</p>
<p>60 (Bg.: 1,17)</p>	<p>Welche Lichter muss ein Maschinenfahrzeug in Fahrt von 20 und mehr, jedoch weniger als 50 Meter Länge führen?</p> <p>Tragen Sie die Lichter unter Angabe der Farben und Sichtwinkel ein, und geben Sie ferner die Mindesthöhe des Topplichtes über dem Schiffskörper an.</p>	 <p>1. SL + HL + SL</p> <p>6m</p>
<p>61 (Bg.: 3,19)</p>	<p>1. Was für ein Licht muss ein Ankerlieger von weniger als 50 Meter Länge führen? 2. Was für einen Signalkörper muss ein Ankerlieger führen?</p>	<p>1. RL weiß 2. schwarzen Ball</p>


<p>62 (Bg.: 2,18)</p>	<p>Sie sehen folgendes Fahrzeug:</p>  <p>Welches Fahrzeug muss diese Lichter führen?</p>	<p>Ankerlieger ü. 100m</p>
---------------------------	--	----------------------------

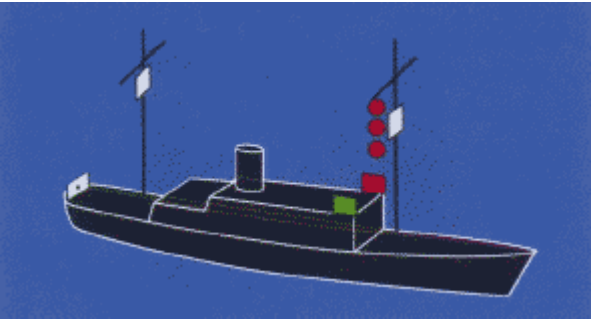
<p>63 (Bg.: 6,20)</p>	<p>Sie hören bei verminderter Sicht mindestens alle zwei Minuten einen langen Ton mit der Pfeife (■■■). Welches Fahrzeug gibt dieses Signal?</p>	<p>MFZ m.F.d.W.</p>
<p>64 (Bg.: 2,9,12)</p>	<p>Sie hören bei verminderter Sicht mindestens alle zwei Minuten zwei aufeinanderfolgende lange Töne mit der Pfeife (■■■ ■■■). Welches Fahrzeug gibt dieses Signal?</p>	<p>MFZ o. F.d.W.</p>
<p>65 (Bg.: 3,7,16)</p>	<p>Sie hören bei verminderter Sicht mindestens alle zwei Minuten drei aufeinanderfolgende Töne mit der Pfeife, und zwar lang, kurz, kurz (■■■ ●●). Welche Fahrzeuge geben dieses Signal?</p>	<ol style="list-style-type: none"> 1. man.-beh. 2. man.-unf. 3. tiefg.-beh. 4. Segler 5. Schlepper 6. Fischer 7. Wasserflugzeuge 8. Flugzeugträger
<p>66 (Bg.: 1,10,13)</p>	<p>Sie hören bei verminderter Sicht mindestens alle zwei Minuten drei aufeinanderfolgende Töne mit der Pfeife, und zwar lang, kurz, kurz (■■■ ●●), und im Anschluss daran vier aufeinander folgende Töne mit der Pfeife, und zwar lang, kurz, kurz, kurz (■■■ ●●●●). Welches Fahrzeug gibt das letztgenannte Signal?</p>	<p>Das letzte geschleppte FZ</p>

67 (Bg.: 4,11,14)	Was für ein Schallsignal muss ein Segelfahrzeug in Fahrt von 12 und mehr Meter Länge bei verminderter Sicht geben?	Lang kurz kurz
68 (Bg.: 5,8,17)	Welches Schallsignal muss ein Fahrzeug in Fahrt von weniger als 12 Meter Länge bei verminderter Sicht geben, wenn es die sonst vorgeschriebenen Signale nicht geben kann?	Ein lautes Geräusch / 2min, das von anderen Schallsignalen unterschieden werden kann
69 (Bg.: 5,15,19)	<p>Sie hören bei verminderter Sicht mindestens jede Minute etwa 5 Sekunden lang rasches Läuten der Glocke.</p> <div data-bbox="602 603 1216 772" style="text-align: center;">  </div> <p>Welches Fahrzeug gibt dieses Signal?</p>	Ankerlieger u. 100m
70 (Bg.: 7,16,18)	<p>Sie hören bei verminderter Sicht mindestens jede Minute etwa 5 Sekunden lang rasches Läuten der Glocke und unmittelbar danach ungefähr 5 Sekunden lang rasch den Gong schlagen.</p> <div data-bbox="602 963 1216 1133" style="text-align: center;">  </div> <p>Welches Fahrzeug gibt dieses Signal?</p>	Ankerlieger ü. 100m
71 (Bg.: 6,14)	Welches zusätzliche Schallsignal darf jeder Ankerlieger bei verminderter Sicht geben, um einem sich nähernden Fahrzeug seinen Standort anzuzeigen?	Kurz lang kurz

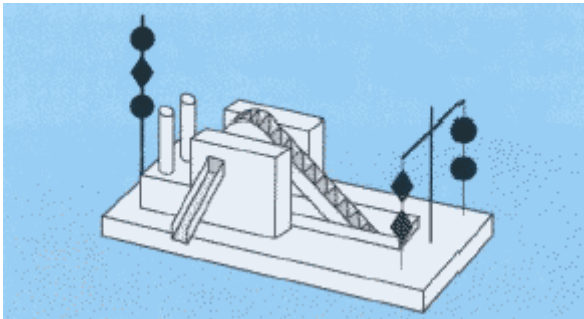
72 (Bg.: 4,15,20)	Wie stellen Sie fest, ob die Möglichkeit der Gefahr eines Zusammenstoßes besteht?	1. wenn die Peilung steht und 2. das FZ näher kommt
73 (Bg.: 9,11)	Zwei in Sicht befindliche Segelfahrzeuge nähern sich im freien Seeraum oder außerhalb des Fahrwassers so, dass die Möglichkeit der Gefahr eines Zusammenstoßes besteht. Welches Fahrzeug muss dem anderen ausweichen, wenn sie den Wind nicht von derselben Seite haben?	Das Segelfahrzeug, das den Wind von Backbord hat, muss ausweichen
74 (Bg.: 10,13)	Zwei in Sicht befindliche Segelfahrzeuge nähern sich im freien Seeraum oder außerhalb des Fahrwassers so, dass die Möglichkeit der Gefahr eines Zusammenstoßes besteht. Welches Fahrzeug muss dem anderen ausweichen, wenn sie den Wind von derselben Seite haben?	Das Segelfahrzeug, das sich in Luv befindet, muss ausweichen
75 (Bg.: 8,12)	Wie hat sich ein Segelfahrzeug im freien Seeraum oder außerhalb des Fahrwassers zu verhalten, wenn es mit dem Wind von Backbord ein Segelfahrzeug in Luv sichtet und nicht mit Sicherheit feststellen kann, ob das andere Fahrzeug den Wind von Backbord oder Steuerbord hat und die Möglichkeit der Gefahr eines Zusammenstoßes besteht?	Ausweichen
76 (Bg.: 11,20)	Wie müssen sich zwei in Sicht befindliche Maschinenfahrzeuge verhalten, die sich einander auf entgegengesetzten oder fast entgegengesetzten Kursen nähern, um die Möglichkeit der Gefahr eines Zusammenstoßes zu vermeiden?	Jeder muss rechts vorbeifahren
77 (Bg.: 7,18)	Welche von zwei in Sicht befindlichen Maschinenfahrzeugen, deren Kurse einander so kreuzen, dass die Möglichkeit der Gefahr eines Zusammenstoßes besteht, ist ausweichpflichtig?	Das Fahrzeug, das von links kommt, muss ausweichen
78 (Bg.: 2,6)	Wie hat sich ein Maschinenfahrzeug im freien Seeraum oder außerhalb des Fahrwassers gegenüber einem in Sicht befindlichen Segelfahrzeug zu verhalten, wenn die Möglichkeit der Gefahr eines Zusammenstoßes besteht?	Ausweichen
79 (Bg.: 4,10)	Wie hat sich ein Maschinenfahrzeug im freien Seeraum oder außerhalb des Fahrwassers gegenüber einem in Sicht befindlichen manövrierunfähigen Fahrzeug zu verhalten, wenn die Möglichkeit der Gefahr eines Zusammenstoßes besteht?	Ausweichen
80 (Bg.: 5,12)	Wie hat sich ein Maschinenfahrzeug im freien Seeraum oder außerhalb des Fahrwassers gegenüber einem in Sicht befindlichen manövrierbehinderten Fahrzeug zu verhalten, wenn die Möglichkeit der Gefahr eines Zusammenstoßes besteht?	Ausweichen

81 (Bg.: 8,16)	Wie hat sich ein Maschinenfahrzeug im freien Seeraum oder außerhalb des Fahrwassers gegenüber einem in Sicht befindlichen fischenden Fahrzeug zu verhalten, wenn die Möglichkeit der Gefahr eines Zusammenstoßes besteht?	Ausweichen
82 (Bg.: 13,17)	Wie hat sich ein Segelfahrzeug im freien Seeraum oder außerhalb des Fahrwassers gegenüber einem in Sicht befindlichen manövrierunfähigen Fahrzeug zu verhalten, wenn die Möglichkeit der Gefahr eines Zusammenstoßes besteht?	Ausweichen
83 (Bg.: 3,15)	Wie hat sich ein Segelfahrzeug im freien Seeraum oder außerhalb des Fahrwassers gegenüber einem in Sicht befindlichen manövrierbehinderten Fahrzeug zu verhalten, wenn die Möglichkeit der Gefahr eines Zusammenstoßes besteht?	Ausweichen

84 (Bg.: 9,19)	Wie hat sich ein Segelfahrzeug im freien Seeraum oder außerhalb des Fahrwassers gegenüber einem in Sicht befindlichen fischenden Fahrzeug zu verhalten, wenn die Möglichkeit der Gefahr eines Zusammenstoßes besteht?	Ausweichen
85 (Bg.: 1,14)	<p>Sie sehen folgendes Fahrzeug:</p>  <p>Wie verhalten Sie sich gegenüber diesem Fahrzeug?</p>	Tiefg.-beh.

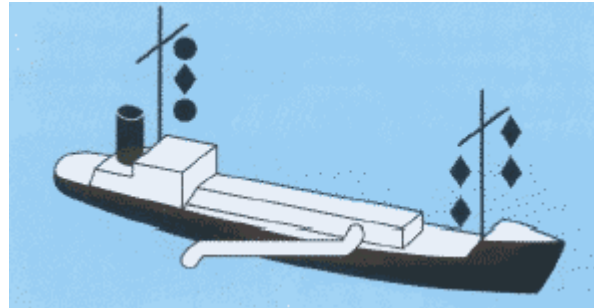
<p>86 (Bg.: 4,5)</p>	<p>Sie sehen folgendes Fahrzeug:</p>  <p>Wie verhalten Sie sich gegenüber diesem Fahrzeug?</p>	<p>Die sichere Durchfahrt nicht behindern</p>
<p>87 (Bg.: 16,17)</p>	<p>Wie verhalten Sie sich als Kurshalter vor Einleitung des Manövers des letzten Augenblicks gegenüber einem ausweichpflichtigen Fahrzeug?</p>	<ol style="list-style-type: none"> 1. Kurs und 2. Geschwindigkeit beibehalten 3. aufmerksam beobachten
<p>88 (Bg.: 2,19)</p>	<p>Wie verhalten Sie sich als Ausweichpflichtiger gegenüber einem Kurshalter?</p>	<p>Manöver</p> <ol style="list-style-type: none"> 1. rechtzeitig 2. klar und 3. entschlossen durchführen
<p>89 (Bg.: 3,18)</p>	<p>Wie hat sich ein überholendes Fahrzeug zu verhalten?</p>	<p>ausweichen</p>
<p>90 (Bg.: 6,20)</p>	<p>Wie haben Sie sich zu verhalten, wenn Sie bei verminderter Sicht anscheinend vorlicher als querab das Schallsignal eines anderen Fahrzeugs hören?</p>	<ol style="list-style-type: none"> 1. Signal geben 2. langsam 3. bereit zum Manöver / stoppen 4. warten bis Gefahr vorüber

91 (Bg.: 1,12)	Wie verhalten Sie sich als Kurshalter, wenn Sie feststellen, dass ein anderes Fahrzeug seiner Ausweichpflicht nicht nachkommt und die Gefahr einer unmittelbar bevorstehenden Kollision besteht?	<ol style="list-style-type: none"> 1. Weck- und Warnsignal 2. Manöver des letzten Augenblicks durchführen
92 (Bg.: 10,15)	Welche Bedeutung haben die folgenden von Maschinenfahrzeugen gegebenen Schallsignale: <ol style="list-style-type: none"> 1. ein kurzer Ton (●), 2. zwei kurze Töne (●●)? 	<ol style="list-style-type: none"> 1. Kursänderung nach Steuerbord 2. Kursänderung nach Backbord
93 (Bg.: 8,13)	Welche Bedeutung hat folgendes von Maschinenfahrzeugen gegebenes Schallsignal: drei kurze Töne (●●●)?	Maschine läuft rückwärts
94 (Bg.: 9,11)	Welche Bedeutung hat folgendes Schallsignal: mindestens 5 kurze, rasch aufeinanderfolgende Töne (●●●●●)?	<ol style="list-style-type: none"> 1. Ausweichpflichtiger wird auf sein Ausweichpflicht hingewiesen 2. Weck- und Warnsignal
	Welche Bedeutung hat folgendes Schallsignal bei verminderter Sicht: ein kurzer Ton, ein langer Ton, ein kurzer Ton (● ■■■ ●)?	Zusatzsignal für Ankerlieger
96 (Bg.: 1,19)	Was ist bei der Benutzung eines Verkehrstrennungsgebietes zu beachten?	<ol style="list-style-type: none"> 1. Abstand von Trennline / Trennzone 2. Ein- u. Ausfahrten benutzen 3. Rechtsfahrgebot beachten 4. keine Kursänderung > 10°
97 (Bg.: 4,17)	Was ist hinsichtlich des Querens der Einbahnwege von Verkehrstrennungsgebieten zu beachten?	<ol style="list-style-type: none"> 1. generell vermeiden 2. keine Kursänderung > 10° 3. Querung im 90° Winkel zum Trennungsgebiet 4. die sichere Durchfahrt nicht behindern

<p>98 (Bg.: 6,9,14)</p>	<p>Sie fahren in einem Verkehrstrennungsgebiet auf dem Einbahnweg in der allgemeinen Verkehrsrichtung:</p> <ol style="list-style-type: none"> 1. Nach welchen Regeln müssen Sie in diesem Bereich fahren und ausweichen? 2. Wie haben Sie sich als Maschinenfahrzeug in einem Einbahnweg gegenüber einem Maschinenfahrzeug zu verhalten, das den Einbahnweg von Steuerbord kommend quert, wenn die Gefahr eines Zusammenstoßes besteht? 3. Wie haben Sie sich als Segelfahrzeug beim Queren eines Verkehrstrennungsgebietes gegenüber einem Maschinenfahrzeug zu verhalten, das auf einem Einbahnweg in der allgemeinen Verkehrsrichtung fährt? 	<ol style="list-style-type: none"> 1. KVR 2. ausweichen 3. die sichere Durchfahrt nicht behindern
<p>99 (Bg.: 3,16)</p>	<p>Wie hat sich ein Fahrzeug von weniger als 20 Meter Länge oder ein Segelfahrzeug in Verkehrstrennungsgebieten zu verhalten?</p>	<p>Die sichere Durchfahrt der anderen nicht behindern</p>
<p>100 (Bg.: 2,18,20)</p>	<p>Sie sehen folgendes Fahrzeug:</p>  <ol style="list-style-type: none"> 1. Was ist das für ein Fahrzeug? 2. Wie müssen Sie an diesem Fahrzeug vorbeifahren? 	<ol style="list-style-type: none"> 1. man.-beh. 2. bei den schwarzen Rhomben

101
(Bg.: 5,11)

Sie sehen folgendes Fahrzeug im Fahrwasser:

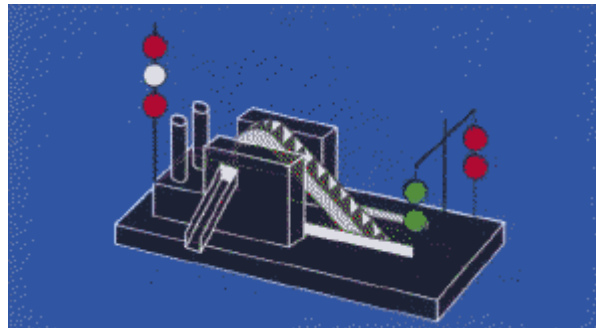


1. Was ist das für ein Fahrzeug?
2. Wie müssen Sie an diesem Fahrzeug vorbeifahren?

1. man.-beh.
2. in Fahrtrichtung rechts vorbei

102
(Bg.: 8,12)

Sie sehen folgendes Fahrzeug:



1. Was ist das für ein Fahrzeug?
2. Wie müssen Sie an diesem Fahrzeug vorbeifahren?

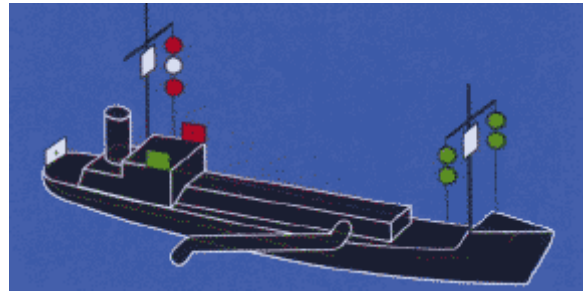
1. Ein man-beh. Fahrzeug, das baggert oder Unterwasserarbeiten ausführt und dabei die Schifffahrt behindert.

2. An der Seite, an der sich 2 grüne Rundumlichter senkrecht übereinander

angeordnet befinden.

103
(Bg.: 10,15)

Sie sehen folgendes Fahrzeug im Fahrwasser:

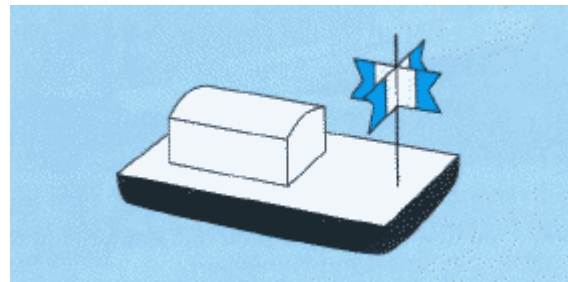


1. Was ist das für ein Fahrzeug?
2. Wie müssen Sie an diesem Fahrzeug vorbeifahren?

1. man.-beh. ü.50m m.F.d.W.
2. in Fahrtrichtung rechts vorbei

104
(Bg.: 7,13)

Sie sehen auf einem Fahrzeug folgende Flagge:



1. Was bedeutet dieses Signal?
2. Wie verhalten Sie sich beim Passieren dieses Fahrzeugs?

1. Taucher im Einsatz
2. weiträumig im sicheren Abstand passieren